

1. masse  $m = 0,40$  [kg]. Vitesse initiale :  $V_1 = 3,0$  [m/s]. Position initiale :  $x_1 = 0$  [m].  
Vitesse finale :  $V_2 = 0$  [m/s]. Position finale :  $x_2 = 1,2$  [m].

- a) Par Torricelli,  $V_2^2 = V_1^2 + 2 \cdot a \cdot (x_2 - x_1)$ , donc:

$$\text{la décélération du plot en bois vaut : } a = \frac{V_2^2 - V_1^2}{2 \cdot (x_2 - x_1)} = \frac{0 - 9}{2 \cdot (1,2 - 0)} = \underline{\underline{-3,75 \left[ \frac{\text{m}}{\text{s}^2} \right]}}$$

- b) La force de frottement égale la force résultante qui vaut :  $F_{\text{frot}} = F_{\text{rés}} = m \cdot a = 0,4 \cdot (-3,75) = \underline{\underline{-1,5 \text{ [N]}}}$ .

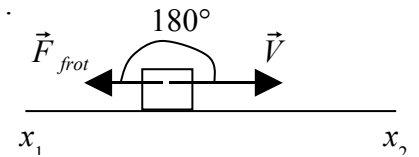
- c) L'énergie cinétique au départ vaut :  $E_{\text{cin}} = \frac{1}{2} \cdot m \cdot V_1^2 = \frac{1}{2} \cdot 0,4 \cdot 3^2 = \underline{\underline{1,8 \text{ [J]}}}$ .

- d) Le travail de la force de frottement sur 1,2 [m] vaut :

$$W_{F_{\text{frot}}} = |F_{\text{frot}}| \cdot (x_2 - x_1) \cdot \cos(180^\circ) = 1,5 \cdot 1,2 \cdot (-1) = \underline{\underline{-1,8 \text{ [J]}}}$$

- e) La variation d'énergie cinétique sur ces 1,2 mètres égale le travail de la force de frottement sur cette distance.

Elle vaut  $-1,8$  [J]. Cela se déduit de c) tout comme de d).



2. masse  $m = 0,40$  [kg]. Vitesse initiale :  $V_1 = 3,0$  [m/s]. Position initiale :  $x_1 = 0$  [m].  
Vitesse intermédiaire :  $V_2 = ?$  [m/s]. Position intermédiaire :  $x_2 = 0,40$  [m].  
Vitesse finale :  $V_3 = 0$  [m/s]. Position finale :  $x_3 = 1,2$  [m].

- a) Sur les 0,40 premiers mètres,  $F_{\text{frot}} = -2,0$  [N]. Le signe "-" indique que le sens de la force est opposé au sens de déplacement.

Puisque  $F_{\text{rés}} = F_{\text{frot}}$ , on sait que

$$a = F_{\text{rés}} / m = -2,0 / 0,40 = -5 \text{ [m/s}^2\text{]}.$$

Par Torricelli,  $V_2^2 = V_1^2 + 2 \cdot a \cdot (x_2 - x_1)$ , donc:

$$\text{La vitesse après } 0,4 \text{ [m] vaut : } V_2 = \sqrt{V_1^2 + 2 \cdot a \cdot (x_2 - x_1)} = \sqrt{3^2 + 2 \cdot (-5) \cdot 0,4} = \sqrt{5} = \underline{\underline{2,24 \left[ \frac{\text{m}}{\text{s}} \right]}}$$

- b) Sur les 0,80 derniers mètres,  $F_{\text{frot}} = -1,25$  [N]. Puisque  $F_{\text{rés}} = F_{\text{frot}}$ , on sait que

$$\tilde{a} = F_{\text{rés}} / m = -1,25 / 0,40 = -3,125 \text{ [m/s}^2\text{]}. \text{ L'accélération a changé.}$$

Par Torricelli,  $V_3^2 = V_2^2 + 2 \cdot \tilde{a} \cdot (x_3 - x_2)$ , donc:

$$\text{La vitesse après } 1,2 \text{ [m] vaut : } V_3 = \sqrt{V_2^2 + 2 \cdot \tilde{a} \cdot (x_3 - x_2)} = \sqrt{5 + 2 \cdot (-3,125) \cdot 0,8} = \underline{\underline{0 \left[ \frac{\text{m}}{\text{s}} \right]}}$$

- c) Le travail de la force de frottement sur les premiers 0,4 [m] vaut :

$$W_{F_{\text{frot}_A}} = |F_{\text{frot}_A}| \cdot (x_2 - x_1) \cdot \cos(180^\circ) = 2,0 \cdot 0,4 \cdot (-1) = \underline{\underline{-0,8 \text{ [J]}}}$$

- d) Le travail de la force de frottement sur les derniers 0,8 [m] vaut :

$$W_{F_{\text{frot}_B}} = |F_{\text{frot}_B}| \cdot (x_3 - x_2) \cdot \cos(180^\circ) = 1,25 \cdot 0,8 \cdot (-1) = \underline{\underline{-1,0 \text{ [J]}}}$$

- e) Le travail total de la force de frottement sur ces 1,2 mètres est de  $-1,8$  [J] !

- f) La variation d'énergie cinétique sur ces 1,2 mètres égale le travail de la force de frottement sur cette distance. Elle vaut  $-1,8$  [J], soit l'opposé de l'énergie cinétique au départ :

$$E_{\text{cin}_\text{initiale}} = \frac{1}{2} \cdot m \cdot V_1^2 = \frac{1}{2} \cdot 0,4 \cdot 3^2 = \underline{\underline{1,8 \text{ [J]}}}. \quad E_{\text{cin}_\text{finale}} = 0 \text{ [J]}, \text{ car } V_{\text{finale}} = V_3 = 0 \text{ [m/s]}$$

3. masse  $m = 0,30$  [kg]. Vitesse initiale :  $V_1 = 0$  [m/s]. Position initiale :  $x_1 = 0$  [m].  
 Vitesse finale :  $V_2 = 5,0$  [m/s]. Position finale :  $x_2 = ?$  [m].

L'énergie cinétique au départ vaut :  $E_{cin,1} = 0$  [J].

L'énergie cinétique à l'arrivée vaut :  $E_{cin,2} = \frac{1}{2} \cdot m \cdot V_2^2 = \frac{1}{2} \cdot 0,3 \cdot 5^2 = 3,75$  [J].

On sait que le travail de la force résultante égale la variation d'énergie cinétique.

$$F_{rés} \cdot (x_2 - x_1) \cdot \cos(0^\circ) = E_{cin,2} - E_{cin,1} \Rightarrow F_{rés} \cdot x_2 = E_{cin,2} \Rightarrow x_2 = E_{cin,2} / F_{rés}$$

On sait que la force résultante vaut :  $F_{rés} = m \cdot g - F_{frot} = 0,30 \cdot 9,81 - F_{frot} = 2,94$  [N] -  $F_{frot}$

- a)  $F_{frot} = 0$  [N]  $\Rightarrow F_{rés} = 2,94$  [N]  $\Rightarrow x_2 = E_{cin,2} / F_{rés} = 3,75 / 2,94 = 1,28$  [m] = hauteur de chute.  
 b)  $F_{frot} = 0,90$  [N]  $\Rightarrow F_{rés} = 2,04$  [N]  $\Rightarrow x_2 = E_{cin,2} / F_{rés} = 3,75 / 2,04 = 1,84$  [m] = hauteur de chute.  
 c)  $F_{frot} = 2,90$  [N]  $\Rightarrow F_{rés} = 0,04$  [N]  $\Rightarrow x_2 = E_{cin,2} / F_{rés} = 3,75 / 0,04 = 93,8$  [m] = hauteur de chute.

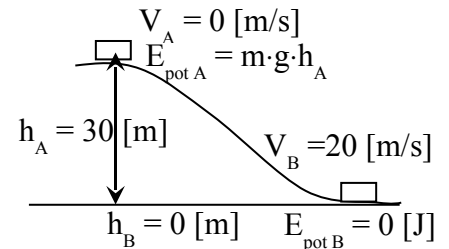
4. Comparons l'énergie mécanique du traîneau au sommet (A) et au bas (B) de la colline :

En haut de la colline :	$E_{cin A} = \frac{1}{2} m V_A^2 = 0$ [J]	} $E_{méc A} = E_{cin A} + E_{pot A} = 11'772$ [J]
	$E_{pot A} = m g h_A = 11'772$ [J]	
En bas de la colline :	$E_{cin B} = \frac{1}{2} m V_B^2 = 8'000$ [J]	} $E_{méc B} = E_{cin B} + E_{pot B} = 8'000$ [J]
	$E_{pot B} = m g h_B = 0$ [J]	

$$W_{moteur} + W_{frottement} = E_{méc B} - E_{méc A} = 8'000$$
 [J] - 11'772 [J] = -3'772 [J]

Puisqu'il n'y a pas de force motrice ( $W_{moteur} = 0$  [J]), cette diminution d'énergie mécanique est entièrement due à la force de frottement. Elle transforme une partie de l'énergie mécanique en chaleur !

La fraction d'énergie dissipée par le frottement vaut :  $\frac{3'772}{11'772} = 0,32 = 32\%$  de l'énergie initiale.



5. Par Thalès,  $dy_1$  et  $dy_2$  sont reliés par :  $\frac{dy_1}{\ell_1} = \frac{dy_2}{\ell_2}$ , donc  $dy_2 = \frac{\ell_2}{\ell_1} \cdot dy_1$ .

Le travail fournit par  $\vec{F}_1$  vaut :  $W_{F_1} = F_1 \cdot dy_1$  (Le cosinus de l'angle vaut  $0^\circ$ ).

Le travail fournit par  $\vec{F}_2$  vaut :  $W_{F_2} = F_2 \cdot dy_2 = F_2 \cdot \frac{\ell_2}{\ell_1} \cdot dy_1$  (Le cosinus de l'angle vaut  $0^\circ$ ).

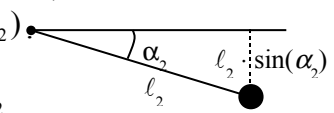
Si ces deux travaux sont les mêmes, alors  $F_1 \cdot dy_1 = F_2 \cdot \frac{\ell_2}{\ell_1} \cdot dy_1$ .

On en déduit que  $F_1 \cdot \ell_1 = F_2 \cdot \ell_2$ . On peut en conclure que cette grandeur est importante.

$$(20^\circ = 180^\circ - 160^\circ)$$

6. Energie potentielle de  $m_1$  :  $E_{pot,1} = -g \cdot m_1 \cdot \ell_1 \cdot \sin(\alpha_1) = -g \cdot m_1 \cdot \ell_1 \cdot \sin(20^\circ - \alpha_2)$   
 Energie potentielle de  $m_2$  :  $E_{pot,2} = -g \cdot m_2 \cdot \ell_2 \cdot \sin(\alpha_2)$ .  
 Si l'une de ces énergies diminue, l'autre augmente !  
 $E_{pot\_totale} = -g \cdot m_1 \cdot \ell_1 \cdot \sin(20^\circ - \alpha_2) - g \cdot m_2 \cdot \ell_2 \cdot \sin(\alpha_2) = -g \cdot m_1 \cdot \ell_1 \cdot (\sin(20^\circ - \alpha_2) + \sin(\alpha_2))$

car  $m_1 \cdot \ell_1 = m_2 \cdot \ell_2$



Elle est minimale lorsque  $\frac{E_{pot\_totale}}{g \cdot m_1 \cdot \ell_1} \stackrel{\text{définition}}{=} f(\alpha_2) = -\sin(20^\circ - \alpha_2) - \sin(\alpha_2)$  est minimale.

On peut vérifier numériquement et graphiquement que le minimum se trouve en  $\alpha_1 = \alpha_2 = 10^\circ$ .

On peut aussi vérifier que la dérivée de  $f$  s'annule en  $\alpha_2 = 10^\circ$ .

$$f'(\alpha_2) = \cos(20^\circ - \alpha_2) - \cos(\alpha_2)$$

$$f'(10^\circ) = \cos(20^\circ - 10^\circ) - \cos(10^\circ) = 0$$

$$f'(9^\circ) = \cos(20^\circ - 9^\circ) - \cos(9^\circ) = -0,006 < 0. \quad f'(11^\circ) = \cos(20^\circ - 11^\circ) - \cos(11^\circ) = 0,006 > 0.$$

Donc,  $\alpha_1 = \alpha_2 = 10^\circ$  correspond bien à un minimum d'énergie potentielle.

